

绝密★本科目考试启用前

## 2017 年普通高等学校招生全国统一考试

### 文科综合能力测试（北京卷）

本试卷共 18 页，共 300 分，考试时长 150 分钟，考生务必将答案答在答题卡上，在试卷上作答无效，考试结束后，将本试卷和答题卡一并交回。

#### 第一部分（选择题 共 140 分）

本部分共 35 小题，每小题 4 分，共 140 分。在每小题列出的四个选项中，选出最符合题目要求的一项。

大数据显示，城市机动车流量变化在一定程度上可体现城市的生活节奏。机动车流量百分比是指某时段机动车流量占当日机动车总流量的比例。图 1 为甲城市工作日机动车流量变化图，回答第 1 题。

1. 甲城市所处时区是

- A 西二区
- B 西十区
- C 东十区
- D 东二区

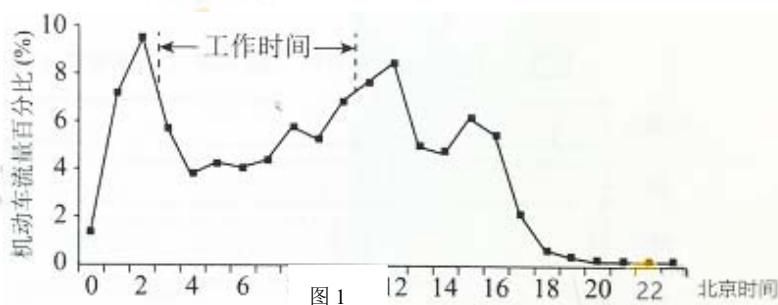


图 2 为影响我国的某台风海面风力分布示意图。读图，回答第 2 题。

2. 该台风

- A 夏季生成于我国黄海海面
- B 小于 6 级风的范围降水最强
- C 气压值最低处风速最大
- D 西北侧的风向为偏北风

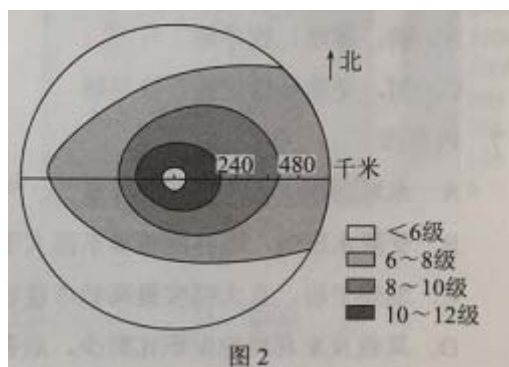


图 3 为某年内我国地跨 10 个经度区域的降水量变化图。读图，回答第 3~5 题。

3. 据图可知，

- A. 清明节之前各地阴雨连绵
- B. 5 月起雨带开始向北移动
- C. 35°N 以南地区秋高气爽
- D. 35°N 以北地区伏旱严重

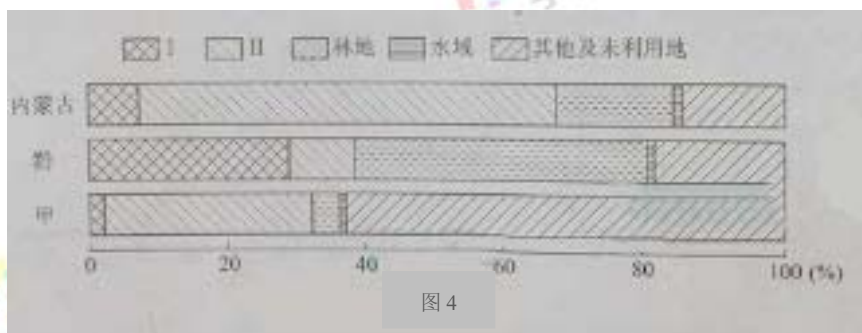
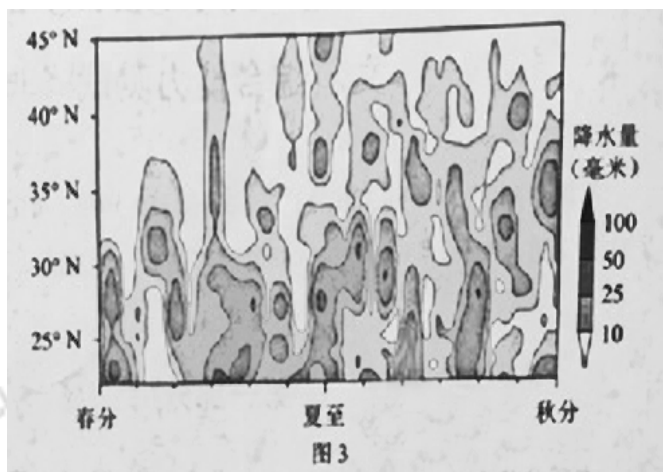
4. 该区域

- A. 位于地势二、三级阶梯
- B. 绝大部分属于内流区
- C. 东部降水受暖流影响大
- D. 人口密度北部大于南部

5. 芒种至小暑期间，

- A. 该区域南北气温差异大
- B. 塔里木河蒸发量大，出现断流
- C. 白昼时间北京比上海大
- D. “雪龙号”科考船抵达南极大陆

图 4 为我国的三个省级行政区土地利用结构图。读图，回答第 6、7 题



6. 甲和土地利用类型 I、II 分别为

- A. 新，耕地、牧草地
- B. 滇，耕地、居民点及工矿用地
- C. 川，交通运输用地、牧草地
- D. 藏，牧草地、居民点及工矿用地

7. 内蒙古

- A. 水域面积大，水能资源丰富
- B. 受降水影响，森林覆盖率东部大于西部
- C. 地势平台，宜大幅度提高城市建设用地比例
- D. 其他及未利用地面积比黔少，后备土地资源不足

图 5 表示喜马拉雅山脉某区域不同海拔四个站点的最冷、最热平均气温。读图，回答第 8 题。

8. 该山地

- A. 海拔 3000 米左右积雪终年不化
- B. 气温年较差随海拔升高递增
- C. 位于喜马拉雅山脉南坡
- D. 地处板块的生长边界

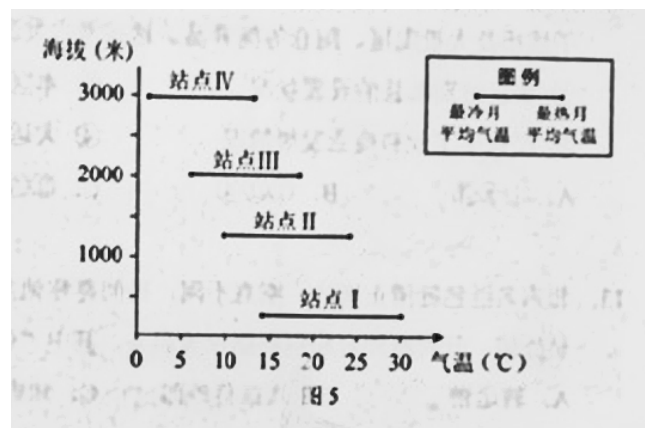


图 6 为 107 国道邯郸-武汉段及其附近区域简图。读

图，回答第 9~11 题

9. 改段国道能够

- ①增加沿线商业网点数量
- ②促进沿线地区人口流动
- ③缓解陇海铁路运输压力
- ④促使省会城市空间形态呈带状分布

- A. ①②
- B. ③④
- C. ①③
- D. ②④

10. 图示区域内

- A. 地形复杂多样，风能资源丰富
- B. 以水田农业为主，水稻播种面积大
- C. 国道以西公路建设难度小，路网密度大
- D. 南部水资源丰富，可跨流域向北部调水

11. 图中黄河以北部分地区将生产冬小麦的土地

休耕，种植雨热同季的春玉米。该做法可以

- ①提高太阳辐射利用率
- ②缓解地下水紧张状况
- ③增强农作物抗旱能力
- ④调整农业的种植结构

A. ①②

B. ③④

C. ①③

D. ②④



12.2016 年，在北京市通州区发掘出汉代渔阳郡路县城址和 800 余座战国至汉代墓葬。出土了钱币及大量陶屋、陶仓等随葬品。这些考古发现，有助于研究

- ① 秦汉时期郡县的设置状况
- ② 本区域古代农业发展状况
- ③ 汉代手工业和商业发展情况
- ④ 大运河对本区域交通的影响

A.① ② ③      B.① ② ④      C.② ③ ④      D.① ③ ④

13.北宋名臣包拯清正廉洁、刚正不阿，民间尊称他为“包相爷”。他曾担任过转运使、兵部员外郎、开封府知府和枢密副使等职务，其中“位同宰相”的是

- A.转运使      B.兵部员外郎      C.知府      D.枢密副使

14.唐代思想家、文学家柳宗元虽仕途失意，但在唐宋时期，他的思想和文学成就均得到极高评价。明代“唐宋八大家”提法出现后，世人则多将他视为文学家，对其思想成就关注较少。据此得出的认识，正确的是

- A.对其思想评价受明代通俗文学左右
- B.政治成败决定了对其文学成就的评价
- C.对其成就评价受制于特定历史条件
- D.明代对其成就的评价比唐末更加全面

15.猜谜语是民众喜闻乐见的娱乐形式。右图所列谜语出现于晚清，其内容

- A.折射出民众接触的西方文化元素趋于多样
- B.表明了西方文化的影响仅停留在器物层面
- C.反映了中国古典文化受到广大民众的冷落
- D.可佐证全盘西化观念盛行于大众日常生活

谜面	谜底
生涯在镜中	照相处
海军	浜
成汤国旗	商标
为他人作寄书邮	达尔文
唐顺宗传位太子	立宪

16.毛泽东曾说：“本人信仰共产主义，主张无产阶级的社会革命。

惟目前的内外压迫，非一阶级之力所能推翻，主张用无产阶级、小资产阶级及中产阶级左翼合作的国民革命，实行中国国民党之三民主义。”这一论述

- A.阐明了孙中山的新三民主义理论
- B.说明了建立革命统一战线的理由
- C.指明了工农武装割据的革命道路
- D.提出了抗日民族统一战线的纲领

17.有同学以 14 年抗战为题材，制作了“抗战史事示意图”（图 7），其中五个序号代表五个事件，按时间

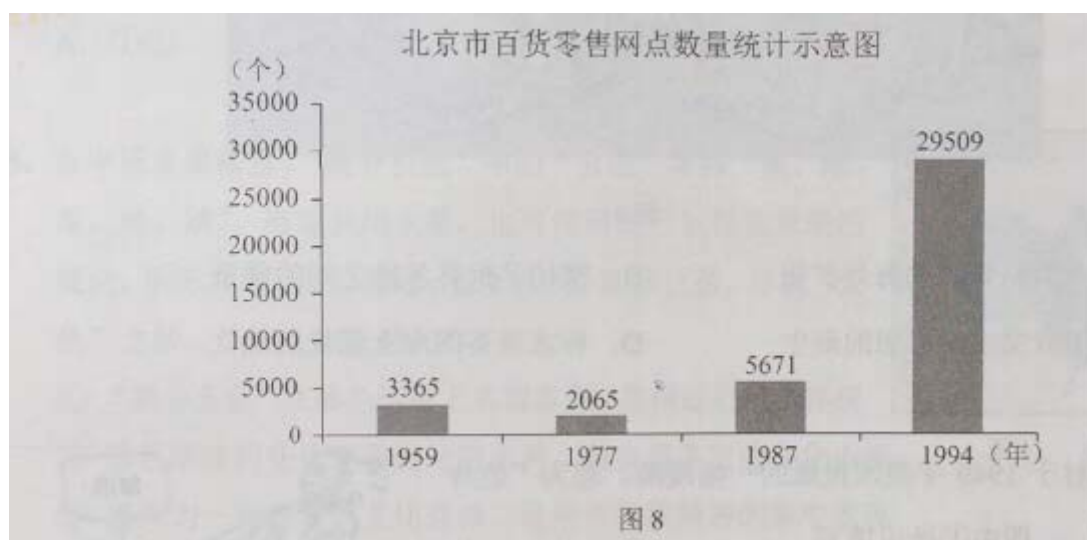
先后顺序排列正确的是



- ① “宝岛回归”
- ② “家园沦陷”
- ③ “血战台儿庄”
- ④ “全民族抵抗的枪声”
- ⑤ “中共七大召开”

A. ① ② ③ ④ ⑤      B. ④ ③ ⑤ ① ②      C. ② ③ ④ ⑤ ①      D. ② ④ ③ ⑤ ①

18. 据图 8 判断，下列选项正确的是



- A. 工商业社会主义改造导致服务网点锐减
- B. 第一个五年计划推动了北京服务业发展
- C. 经济体制改革极大激发了北京市场活力
- D. 加入世贸组织使北京商品供应更加多样



19. 下列选项中史实与结论之间逻辑关系正确的是

	史实	结论
A	李时珍写成药物学巨著《本草纲目》	明代科技水平全面提高
B	康熙帝向西方传教士学习数学、天文知识	清初全社会关注西方自然科学
C	1905 年京剧《定军山》被拍摄为电影	近代科技使传统戏剧获得新的传播形式
D	联合国向世界推广袁隆平培育的杂交水稻	成功解决了世界粮食短缺问题

20. 雅典和罗马是西方古典文明的杰出代表，对后来西方的历史和文化影响深远，二者都有

- A. 皇帝制度      B. 司法陪审制      C. 完备法典      D. 陶片放逐法

21. 图 9 取材于欧洲画家斯泰达努斯的画作《新发现》（NOVA REPERTA）。图中所描绘的新发现



- A. 有助于罗马帝国的海外扩张      B. 密切了世界各地之间的联系  
C. 宣告了人文主义思想的诞生      D. 标志着英国海上霸权的确立

22. 图 10 取材于 1949 年美国报纸的一幅漫画，题为“他终于上道了”。图中○处应填写



- A. 罗斯福新政      B. “铁幕”演说      C. 马歇尔计划      D. 欧洲煤钢联营

23. 美国黑人民权运动领袖马丁·路德·金认为，争取权利的最佳方式“不是对罪恶的消极的不抵抗”，而是“对罪恶的积极的非暴力抵抗”。下列历史人物与他有类似主张的是

A.华盛顿 B.孙中山 C.凯末尔 D.甘地

24. 中学生庙会练摊 创意萌鸡热销

所有收入将作为奖学金提供给西部贫困地区某中学

本报讯 蜜蜂鸡、民族鸡、粉萌鸡、项链鸡……50余种，近2000只造型各异的超萌玩偶鸡在鸡年庙会上格外受欢迎，卖到火热，而卖这些玩偶的庙会

摊主是一群中学生。原来这是某校学生的公益集市“搬”进了庙会。学生们在北京传统庙会上玩创意，做公益，吸引了很多人的关注。

上面为某报刊登的一则新闻，对该新闻理解正确的有

- ①根据市场需求设计产品体现了同学们对市场动态的把握
- ②文化创新的源泉是传统文化与现代审美的结合
- ③同学们的成功体现了思想道德修养在个人成长中的首要作用
- ④同学们在奉献社会中锻炼了能力，实现了自己的价值

A.①③ B.①④ C.②③ D.②④

25. 在中国水墨画中，“墨分五色”中的“五色”常指“焦、浓、重、淡、清”，即使只用水墨，也可使画面产生视觉效果的变化，阴阳明暗、凹凸远近、苍翠秀润、动静巨微，在“五色”之妙。下列认识正确的有

- ①“墨分五色”在墨色运用上丰富多态，是辩证思维的体现
- ②墨色浓淡的变化表现出无穷境界，蕴含着丰富的文化内涵
- ③墨作为一种独特的文化载体，是中华民族精神的集中表现
- ④追求内敛、含蓄、崇尚飘逸、空灵，是时代精神的典型特征

A.①② B.①③ C.②④ D.③④



26. 经济全球化曾经被人们视为阿里巴巴的山洞，现在又被不少人看做潘多拉的盒子……世界经济的大海，你要还是不要，都在那儿，是回避不了的。想人为切断各国经济的资金流、技术流、产品流、产业流、人员流、让世界经济的大海退回到一个一个孤立的小湖泊、小河流，是不可能的。这是因为

- A.经济全球化与人们对它的认识是同步发展的
- B.经济全球化是不以人的意志为转移的自在事物的联系
- C.经济全球化不可避免地存在缺陷，需要人们从一开始就揭示出它的本质
- D.经济全球化是生产力发展到一定阶段的产物，也是生产力进一步发展的要求

27.熊猫光伏电站（图 12）属于联合国开发计划署的推广项目，是根据一位中学生的独特创意设计的。首个熊猫电站正在中国山西大同建设，该电站主体外观被设计成熊猫图案，由黑色的单晶硅太阳能电池和白色的薄膜太阳能电池组合而成。这启示我们



山西大同熊猫电站鸟瞰效果图

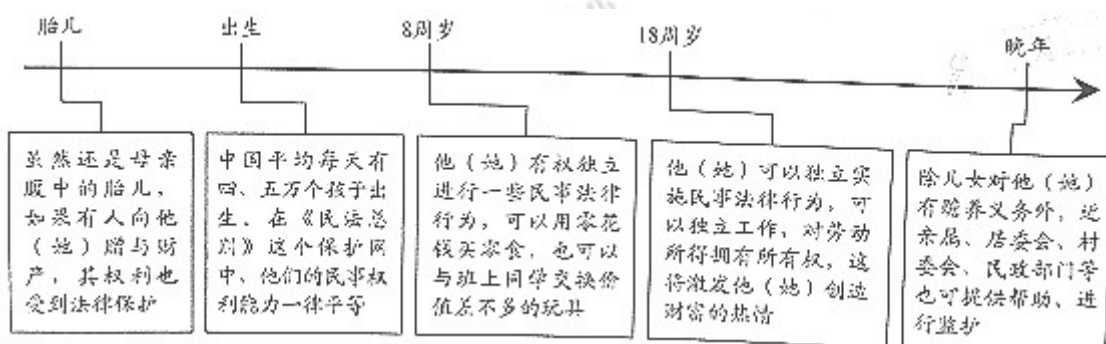
- ①抓住事物的特点，有助于发现清洁能源推广的新形式
- ②青少年关心和思考现实问题能够激发他们的创造性
- ③充分发挥能动性，能使人们的实践活动获得无限自由
- ④思维创新是青少年实现人生价值的根本途径

A. ①②      B. ①④      C. ②③      D. ③④

28.太空科技助力“健康中国”。“天舟一号”上开展的太空干细胞实验，旨在更细致地揭示人体干细胞定向分化为骨细胞的过程，该研究有助于老年人骨质疏松的治疗。医学科技的探索不局限于地球表面，也能在太空中开展，这表明

- A. 人类意识来源于客观对象，它不是无缘无故产生的
- B. 真理最基本的属性是主观性，但需要依赖于客观实践
- C. 实践是认识的基础，实践发展能为认识深化提供新条件
- D. 掌握和运用系统优化的方法，才能促成认识的发展

29.作为民法典的开篇之作，《中华人民共和国民法总则》（以下简称《民法总则》）将于 2017 年 10 月 1 日起正式实施。《民法总则》与每个人的一生息息相关。



下列关于《民法总则》的评论，正确的有

- ①对胎儿民事权利的保护，体现了对公民民主权利的尊重
- ②对未成年人的特别保护，不符合法律面前一律平等的原则
- ③人身和财产权利会得到更多保障，有利于激发社会活力
- ④《民法总则》的颁行，是全面推进依法治国的重大举措

A. ①②      B. ①④      C. ②③      D. ③④



30. 国务院印发的《“十三五”生态环境保护规划》强调要把生态环境保护纳入本地区国民经济和社会发展规划。以下是近年来国家生态环境保护方面的部分政策和法律文件。

相关文件	核心内容
《控制污染物排放许可制实施方案》	环境保护部门通过对企事业单位发放排污许可证并依证监管控制污染物排放
《关于全面推行河长制的意见》	全面建立省、市、县、乡四级河长体系，建立健全河湖管理保护监督考核和责任追究制度
《最高人民法院、最高人民检察院关于办理环境污染刑事案件适用法律若干问题的解释》	对特定情形的环境污染犯罪行为酌情从重处罚

下列选项正确的是

- A. 政府明确生态环境保护责任，扩大权力范围
- B. 政府发放排污许可证是运用市场手段控制企业污染
- C. 政府适应生态环境保护的要求，创新行政管理方式
- D. 政府行政执法，加大对环境污染犯罪行为的审判力度

31. “两会”是观察和了解中国的重要窗口，也是中国展示制度自信和道路优势的重要平台。下面是某同学搜集的“两会”资料

各位代表：现在，我代表国务院，想大会报告政府工作，请予审议，并请全国政协各位委员提出意见。
——摘自 2017 年《政府工作报告》
要勤勉履职尽责，紧扣经济社会发展献计出力，真诚协商、务实监督、深入议政，多建诤言，共谋良策，推动中共中央大政方针落地见效，促进人民福祉不断改善。
——摘自《在全国政协十二届五次会议闭幕会上的讲话》
坚决维护党中央权威和集中统一领导，切实把党的路线方针政策和党中央决策部署贯彻落实到实际工作中，不断推进伟大事业、伟大工程、伟大斗争取得新的伟大胜利。
——摘自《在第十二届全国人民代表大会第五次会议上的讲话》

下列选项正确的有

- ① 民代表大会和政治协商会议都要坚持中国共产党的领导
- ② “请予审议”意味着全体与会代表和委员可以对《政府工作报告》进行审议
- ③ 参政议政、建言献策是人大代表和政协委员的共同职责

④ “两会”同步进行体现了具有中国特色的民意表达互补结构

- A.①③      B.①④      C.②③      D.②④

32. “90 后、英语专业八级、基层一线执法执勤单位的军事骨干……”简单的勾勒，让这样一只队伍显得“高冷”而神秘，这正是中国组建的联合国首支常备维和警队。为支持改进和加强维和行动，中国加入新的联合国维和能力待命机制，并率先组建常备成建制维和警队。这一举措说明

- A.联合国集体安全机制发生了根本变革  
B.中国组建维和警队是国家行使自卫权的需要  
C.中国通过联合国坚持以双边主义的方式实现共同安全  
D. 中国组建维和警队体现了国家利益和国际责任的统一

33. “移动互联网+手机支付+自行车租赁”催生了共享单车这一崭新的行业，共享单车正成为经济生活的一抹亮色，小橙车、小黄车、小蓝车……彩虹般的色彩装点了街巷。共享单车改变了许多人的出行方式，与城市公交和地铁共同构成了绿色、便利的交通网络。关于共享单车，下列判断正确的有

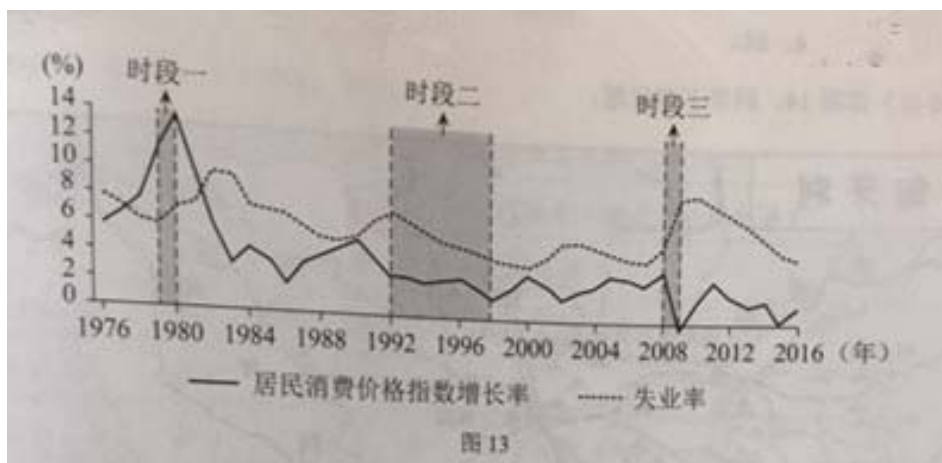
- ① 在使用过程中，自行车与手机是互补品  
② 凭借信用分可以免押金租用，说明诚信能降低企业成本  
③ 减轻了高峰期公交系统的压力，表明其对公交车、地铁有一定的替代作用  
④ 其发展为自行车制造企业带来大量订单，这反映了产业链中上、下游企业的竞争关系

- A. ①②      B. ①③      C. ②④      D. ③④

34. “马太效应”指一种强者愈强、弱者愈弱的两极分化现象。在市场竞争中，由于需求方的因素导致企业“马太效应”式分化的是

- A.大而不倒——大型企业金融机构的倒闭会给国民经济带来重大风险，因此政府在其面临危机时常会出手援助，而对小型金融机构可能坐视不管  
B.规模经济——规模更大的企业可以以更低平均成本进行生产，从而比小企业更有竞争优势  
C.网络效应——聊天工具、在线游戏等网络产品，影响其吸引力的重要因素是已有用户数量的多少，因此用户数量较多的企业更能吸引新用户  
D.劣币驱逐良币——当缺乏透明、公正的市场规则时，侵权盗版的企业可能大行其道，积极研发、依法经营的企业却难以立足

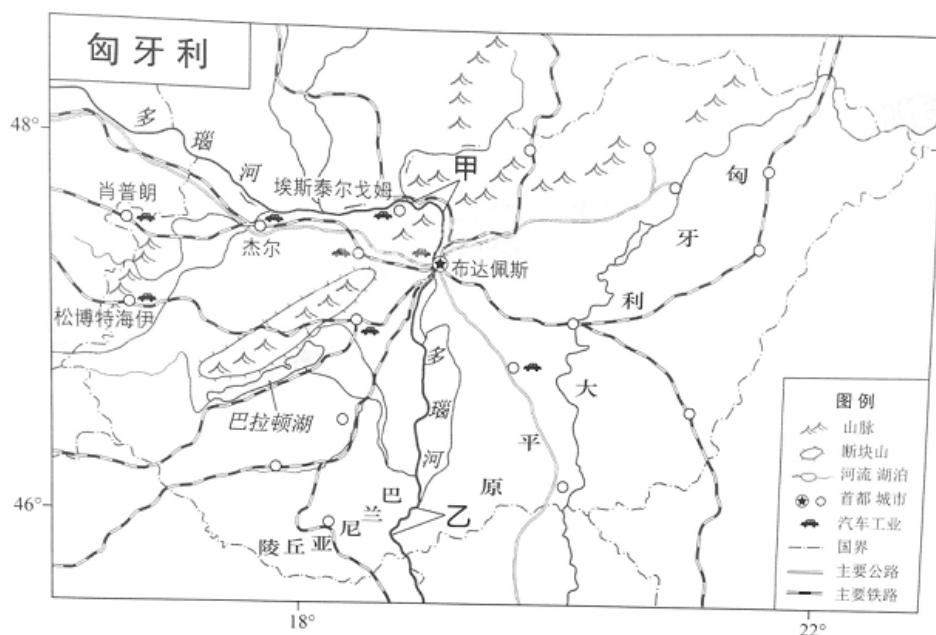
35. 图 13 反映了某国 1976 年～2016 年期间的经济运行情况，下列判断正确的是



- A. 凯恩斯主义可以解释时段一的经济困境
- B. 按照新自由主义的主张，在时段二应该加强政府管制
- C. 该国在时段三陷入了“滞胀”的困境
- D. 在时段三可以通过扩张性财政政策拉动经济增长

## 第二部分（非选择题 共 160 分）

36. (36 分) 读图 14，回答下列问题。



(1) 概述匈牙利的地形特征。(8 分)

(2) 简述巴拉顿湖形成的主要过程。(6 分)

(3) 与甲河段相比，说明乙河段的水文特征及形成原因。(10 分)

匈牙利的汽车工业历史悠久，杰尔是全国重要的汽车工业城市，拥有多家与汽车工业相关的研发和教育机构。近年来，杰尔、肖普朗，埃斯泰尔戈姆和松博特海伊等城市吸引了诸多跨国汽车公司和零部件供应商投资建厂，80%以上的产品用于出口。

(4) 说明匈牙利汽车工业分布特点和原因。(12 分)

### 37. (38 分) 儿童：成长、保护与发展

材料一 孔子曰：“不学礼，无以立。”



中国古代儿童称谓简表

年龄段	称谓	称谓由来（摘自《礼记》等）
1-3岁	孩提	孩提之童，无不知爱其亲者
10岁以前	孺子	孺子早寝晏起，唯所欲，食无时
满10岁	幼学	人生十年曰幼，学
13-15岁（男）	舞勺	十有三年，学乐，诵诗，舞《勺》（一种文舞）
15岁左右（男）	束发	束发而就大学，学大艺焉，履大节焉
15岁（女）	及笄	十有五年而笄（笄礼）
15-20岁（男）	舞象	成童，舞《象》（一种武舞），学射，御
满20岁（男）	弱冠	二十曰弱，冠（冠礼）

（1）礼乐制度是维护宗法社会的重要基础。表中能够反映礼乐制度对儿童要求的称谓有哪些？简析在先秦社会礼乐制度是如何渗透到儿童成长过程中的。（10分）

材料二 大约在17、18世纪，新的儿童观念逐渐形成。卢梭认为：“在自然的秩序中，所有的人都是平等的。”“儿童时代有属于它自己的独特观察、思维、感知方式。”

18世纪末，童工约占西方工人总数的1/10，平均每天工作13-14小时，1821年法国爆发了反对雇佣童工的抗议。19世纪，英法等国先后颁布一系列法律，限定童工的最低工作年龄及工作时间、并规定儿童要接受教育。1884年，伦敦防止虐待儿童协会成立。在此前后，英法等国先后制定法律，保护儿童免受肉体及精神侵害；剥夺虐待儿童的家长的监护权。

1904年，法国设立儿童福利部，1908年，英国设立儿童法庭，1924年，第一份《儿童权利宣言》提出儿童应受特殊保护。1946年，联合国设立儿童基金组织。1989年《国际儿童公约》确认每个儿童均有生存权、受保护权、发展权和参与权。现已有196个国家签署该公约。

（2）阅读材料，概括18-19世纪儿童保护方面取得的成就，并结合所学分析其背景；概括20世纪以来儿童保护的新特点。（14分）

材料三 古人云：孝者，“百行之本”“始于事亲，中于事君”“孝，德之本也，教之所由生”。

材料四 三纲之根本义，阶级（等级）制度是也。所谓名教，所谓礼教，皆以拥护此别尊卑，明贵贱之道德政治，乃以自由、平等、独立之说为大原。——陈独秀《吾人最后之觉悟》（1916年）

父子母子不必有尊卑的观念，却当有互相扶助的责任。同为人类，同做人事，没有什么恩，也没有什么德。要承认子女自有人格，大家都向“人”的路上走。——吴虞《说孝》（1920年）

材料五 未成年人享有生存权、发展权、受保护权、参与权等权力，国家根据未成年身心发展特点给予特殊、优先保护，保障未成年人的合法权益不受侵犯。

父母或者其他监护人应当创造良好、和睦的家庭环境，依法履行对未成年人的监护职责和抚养义务。  
——《中华人民共和国未成年人保护法》

“孝亲尊师善待人”——《中小学生守则》

（2）阅读上述材料，对“孝”这一观念的历史演变进行解读。（14分）

38. （34分）践行“创新、协调、绿色、开放、共享”的新发展理念，谋划首都未来可持续发展的新蓝图。

材料一 2017年5月17日，中共北京市委十一届十四次全会召开，一致同意将《北京城市总体规划（2016年-2030年）（送审稿）》（以下简称《总体规划》）按程序上报党中央、国务院审定。在《总体规划》编制过程中，市委市政府共开展了38项重点专题研究，召开了40余次专家研讨会，并通过网络留言、邮件、信件、现场留言等方式征集公众意见，共吸纳了5200余条意见建议。下面是部分市民的网络留言：

春光灿烂：今天参观了规划展览，心情很激动，相信北京会越来越好！

我爱北京：我设计了一款手机软件，请大家标出你家附近的积水情况，上传给政府网站，可以为政府提供参考信息，共建规划中的“海绵城市”。

清风送爽：规划里还有个“城市体检”，你这款软件还可以用来监督市政排水设施维护状况。

见贤思齐：规划里也提到了绿色出行，我关心政府未来有什么具体措施。

五月和弦：社区服务、留白增绿、历史文化名城保护……规划中涉及到这么多市民关心的问题，方方面面都要考虑到，还要加以解决，真心不容易，大家群策群力吧！

南城笑笑：要是我们的建议能得到政府的及时反馈，就更好了！

（1）某高中生根据上述材料，拟撰写一篇论文。请运用《政治生活》相关知识，帮他完成论文提纲及要点。

### 城市规划过程中的公民参与政府回应

#### 一、城市规划过程中公民参与的主要特点（2分）

##### 1. 公民参与意识日益增强

2. \_\_\_\_\_ ① \_\_\_\_\_

## 二、城市规划过程中政府对公民参与的回应（5分）

1. 回应的主要形式：政府对公民意见建议的吸纳、反馈

2. 回应的意义：\_\_\_\_\_ ② \_\_\_\_\_

## 三、政府多措并举，解决公民关心的问题（5分）

1. 问题：\_\_\_\_\_ ③ \_\_\_\_\_（要求：在市民留言中，选取一个与城市规划相关的问题）

2. 措施：\_\_\_\_\_ ④ \_\_\_\_\_（要求：针对选取的问题作答）

材料二

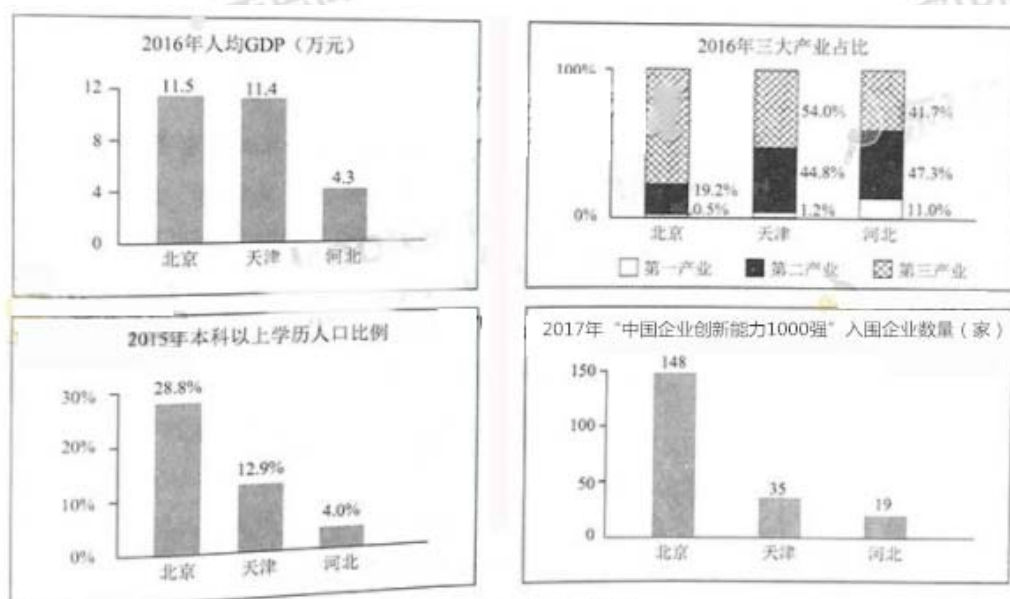


图 15. 京津冀发展状况

材料三 国务院印发的《“十三五”现代综合交通运输体系发展规划》，提出要“构建京津冀协同发展的一体化网络”，其中要求重点加强城际铁路建设，强化干线铁路与城际铁路、城市轨道交通的高效衔接，加快构建内外疏密有别、高效便捷的轨道交通网络。

材料四 京津冀协同发展战略实施以来，河北省累计签约引进北京市商户 23140 户，吸引 1350 多家京津冀高新技术企业落户。一些商业批发、制药行业的企业进行了整体搬迁，一些电子商务企业和高端装备制造企业把他们的物流基地和生产基地外迁到河北。2016 年，河北省从京津引进项目 4100 个，资金 3825 亿元。

(2) 中心城市的人才、产业的技术等优势向周边辐射和输出，能够带动周边区域经济发展，产生“外溢效应”。在“疏解非首都功能、推动京津冀协同发展”的背景下，结合材料。运用《经济生活》相关知识，谈谈如何理解北京的“外溢效应”。(10分)

材料五 一部城市的发展史，就是一部人类向着美好生活前行的历史。城市生机勃勃，予人无限可能。关于首都北京未来的设想，有“和谐北京”“宜居北京”“智慧北京”“人文北京”“创新北京”……

(3) 运用《生活与哲学》相关知识，谈谈怎样绘就我们五彩缤纷的未来北京。(12分)

要求：观点鲜明；可以就某一点深入分析，也可以全面论述；知识运用准确、贴切；论述合乎逻辑，条理清晰。

39. (10分) 近几年，外卖成为人们的用餐新宠，某青年打算开办一家外卖餐厅，为此进行市场调研。

(1) 为了解消费者的需求弹性及其主要影响因素，该青年应该关注下面消费者调查问卷中的问题\_\_\_\_\_和\_\_\_\_\_，你选择这两个问题的理由是\_\_\_\_\_。(4分)

#### 消费者调查问卷

① 您的职业是

☐ 在校学生    ☐ 在校人员    ☐ 离退休人员    ☐ 其他

② 选择外卖时，您可以接受的最远距离是

☐ < 1 千米    ☐ < 3 千米    ☐ < 5 千米    ☐ 不考虑距离远近

③ 外卖平台或店家进行的价格促销活动，会影响你的消费选择吗？

☐ 影响很大    ☐ 有一些影响    ☐ 没有影响

④ 您得到外卖商家信息的主要途径是

☐ 外卖平台的推销    ☐ 朋友卷介绍    ☐ 纸质宣传单    ☐ 看到过实体店铺    ☐ 其他

(3) 分析图 16 的调查结果，据此你认为该青年在开办餐厅时应该注意哪些问题？(2分)



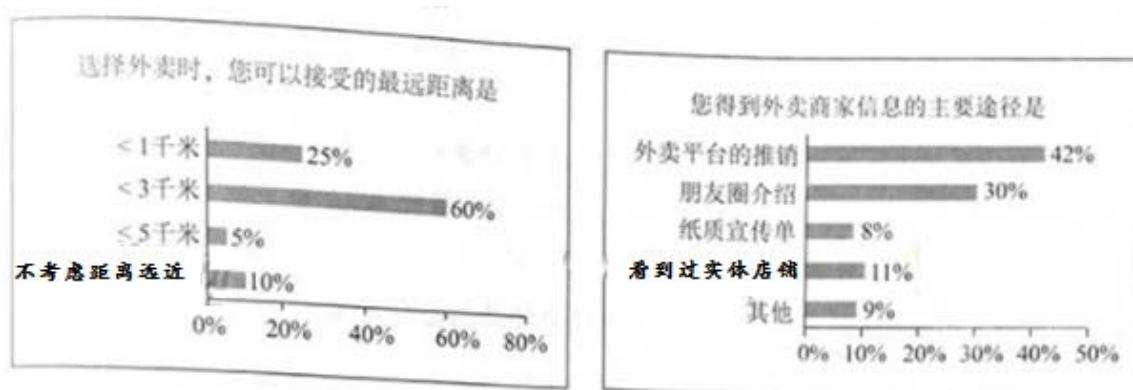


图 16

(3) 除了进行消费者一方的调研外，你认为该青年还需要理解哪些方面的信息？(4 分)

40. (18 分) 博物馆是一个城市乃至一个国家的文化符号，承载了丰富的文化内涵，联合国规定每年的 5 月 18 日式国际博物馆日。

北京故宫博物院是在明清两代皇宫及其收藏的基础上建立起来的综合性博物馆，建筑艺术精湛，是中国最大的古代文化艺术博物馆。

(1) 阐述北京故宫博物院的主要旅游价值，列举故宫博物院在对公众开放游览方面应采取的环境保护措施。

(10 分)

马克思诞生于德国历史文化名城特里尔。1947 年，他的故居被辟为博物馆，其中两个展室的主题分别为“转折点 1848 年”和“卡尔·马克思思想的世界影响”。

(2) 在①和②两个问题中任选其一作答。(8 分)

① 为什么 1848 年是马克思思想的“转折点”？简要说明理由。

② 简述 20 世纪初马克思主义理论在中国传播的情况。

41. (24 分) 伴随着古代陆上和海上丝绸之路的开通, 东西方交往不断增加。

在海上丝绸之路沿线的东非国家中, 马拉维具有独特的自然景观。读图, 回答第(1)题。

(1) 说出该国自然带的类型, 并在 1 月和 7 月中任选其一说明该自然带的景观特点和成因。(10 分)

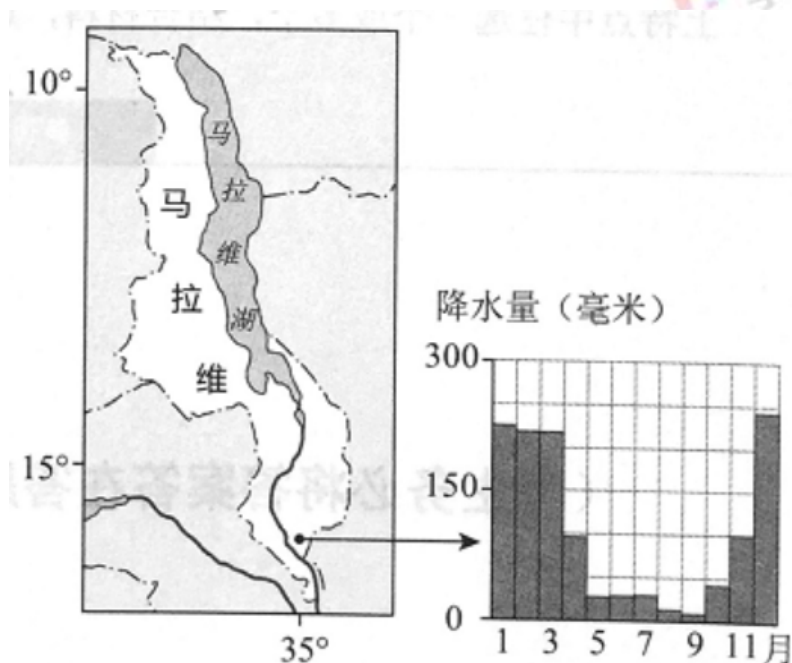


图 17

在埃及、伊朗、巴基斯坦等地, 发现了大量唐代瓷器碎片, 其中包括唐三彩、邢州白瓷、越州黄褐釉瓷等。在我国海南岛东南部海滩和西沙群岛海域, 也发现了成捆叠堆的唐宋时期瓷器。

唐宋时期, 广州出现几种新行业: 和香 (把舶来的香料制成香品)、解犀 (把舶来的象牙和犀牛角进行切割)、译人 (翻译) 和舶牙 (舶来品交易经纪人)。每年进入广州的外国人约一万人次, 广州出现了供外国人居住、经商的“蕃坊”。

(2) 结合所学, 概述海上丝绸之路对唐宋社会经济的影响。(6 分)


(3) 某校学生参观“一带一路”展览，请按要求完成下面参观学习手册的内容。(8分)

### 元青花传奇

元青花“浣翠淌蓝逸海韵”的艺术特色，是在漫长的过程中逐渐形成的。

元代景德镇的青花瓷，一开始是为西亚地区制造的，订购外销瓷的是波斯和叙利亚的商人。中国元代以前的彩绘瓷，普遍疏朗、写意手法居多。但元青花以一种伊斯兰式的标准手法。将中式的动植物造像以扁平化、抽象化，得以无尽连续重复，几乎看不到留白。

受伊斯兰文化影响的中国青花瓷，发展到15世纪已经非常成熟，并成为埃及、叙利亚与波斯陶工模仿的对象。这些穆斯林国家的陶工们，慢慢地采取了更自由、解放的手法，增加了律动与空间感，他们的图案逐渐开放、融入中式特有的某些生命力与自发性。



元青花纹饰中的  
汉族文化元素



元青花纹饰中的  
伊斯兰文化元素

“元青花传奇”体现了“丝绸之路”文化“通”“融”“荣”的特点。请从以上特点中任选一个或多个，结合材料，运用《文化生活》相关知识，谈谈你的认识。

## 2017 年高考北京卷文科综合参考答案

1. B 2. D 3. B 4. A 5. C 6. A 7. B 8. C 9. A 10. D 11. D 12. A  
13. D 14. C 15. A 16. B 17. D 18. C 19. C 20. B 21. B 22. C 23. D 24. B  
25. A 26. D 27. A 28. C 29. D 30. C 31. B 32. D 33. B 34. C 35. D

36. (1) 地形以平原、山地为主(2分)，北部为山地，面积小，多流水的侵蚀地貌；南部为平原，面积大，多流水的堆积地貌(2分)；地势是北高南低(2分)；冰川地貌广布(2分)。(每点2分，共8分)

(2) 地壳运动中岩层的断裂错动，导致岩体下沉凹陷(2分)，地势低洼(2分)，水流汇聚形成湖泊(2分)。(每点2分，共6分)

(3) 甲河段位于上游山区，乙河段位于下游平原区，与甲河段相比，乙河段有更多的支流汇入径流量大(2分)；乙河段位于平原地区落差小，流速慢，水能不丰富(2分)；乙地人类活动频繁，植被覆盖率低，导致含沙量大(2分)；乙河段流速慢，冰期长(2分)；乙地补给主要为大气降水，甲地有大气降水和冰雪融水，因此乙地净流量季节变化小。(2分)(每点2分，共10分)

(4) 分布特点：汽车工业主要分布在匈牙利西北部的首都和城市。(2分)

原因：西北部汽车工业历史悠久（2分），工业基础完善，工业部门齐全（2分）；西北部公路铁路线密集交通便利（2分）；有众多的研发和教育机构，西北部汽车工业技术水平高，技术先进（2分）；西北部靠近欧洲发达国家，汽车市场广阔；（2分）（每点2分，共12分）

37.（1）反映礼乐的儿童称谓有：幼学、舞勺、束发、及笄、舞象、弱冠（2分）

礼乐制度分礼和乐两个部分，礼主要是对人的身份进行划分和社会规范，最终形成等级，乐是基于礼的等级制度，运用音乐进行缓解社会矛盾。（2分）

表格中所提的幼学，“学”开始，到三年后，要学乐和诵诗，涉及到儒家经典，到“束发”时要学“大艺”，掌握的儒学思想和内容更高深，到“舞象”涉及到射、御，孔子之学的六艺基本全部伴随孩子的成长过程，从及笄到弱冠，从孩子外貌的变化判定他应该了解并遵守的社会礼仪规范，礼乐制度渗透到儿童成长过程中。（4分）

礼乐制又是维护宗法制和分封制的重要基础，以此来维护社会秩序和维护政治统治。（2分）

（2）成就：18世纪形成新的儿童观念，儿童享有平等和独立的人格；19世纪通过立法保护童工的最低工作年龄和最高工时；制定法律保护儿童身心健康，防止虐童。（每一点2分，共6分）

背景：18世纪启蒙运动以“理性主义”为核心，宣扬自由平等，利于形成新的儿童观念；

工业革命的开展，资本主义经济迅速发展，机械化生产使得童工数量大增，推动了保护儿童权利的相应法律的出台；

工业革命后英法等国民民主政治进一步完善，从而推动了民主法制建设；

工人运动的开展，客观上也推动了对童工权力的保护。（任意3点得6分）

特点：保护儿童的机制日益健全完善；保护儿童走向国际化。（2分）

（3）中国古代深受儒学思想的影响，注重道德教化，孝被视为“百行之本”和“德”之本，注重孝有利于社会的和谐稳定。（3分）

近代新文化运动受西方民主、自由、平等、独立等思想的影响，猛烈抨击三纲五常，认为“孝”是维护贵贱尊卑的礼教工具，主张父辈和子女相互扶持，人格平等，封建社会“孝”的观念受到冲击。（4分）

现代化建设新时期，随着经济的发展，民主和法制体系的日益完善，国家立法注重保护未成年人的利益，同时也弘扬传统美德，将孝敬亲人、尊敬师长写入《中小学生守则》。（3分）

总之，对“孝”的理解随着时代的进步，其内涵也有了很大的变化，其作用也由维护等级秩序到真正促进社会和谐稳定。（4分）

38.（1）

一)①公民参与素养和能力增强，关心公共事务，积极建言献策，见之于行动（2分）

二)②有利于推进政府决策的民主性、科学性，提高政府的行政效率，有利于树立政府威信；激发公民参与意识，增强主人翁责任感。（5分）

三)③绿色出行（1分）

④加强地铁等基础设施建设，设立完善的快速公交道，对共享单车进行规范化管理的引导，加大宣传教育，倡导绿色出行。（4分）

（2）外溢效应体现了京津冀三地经济上的相互联系。三地各自发挥比较优势，加强经济技术合作，有助于资源优化配置，实现互利共赢。4

这种外溢，为河北发展提供了技术、人才、产业、基础设施，可以推动其实施创新驱动战略，实现经济转型升级，3

进而增大河北对劳动力的吸引力，也有助于缓解北京的人口压力，疏散非首都功能，推动京津冀区域协同发展。3

欲使这种外溢效应最大化，政府要在尊重价值规律的基础上，实施科学的宏观调控，进一步推动区域协同发展战略，搭建京津冀协同发展的新舞台。

（3）（12分）

39.（1）①③理由：①收入是消费的前提和基础③价格是影响的主要因素。（4分）



(2) 注意的问题：距离 $<3000$  米；外卖信息的推广平台发挥外面平台和朋友圈的作用

(3) 对该行业同质化产品的比较和市场饱和度的考察；

对市场环境，市场准入规则，国家宏观政策的了解；

对外卖物流成本的调查研究；

对外卖行业发展前景的分析。(4 分)

40. (1) 历史文化价值；美学价值

限制每日游客数量；加强管理和疏导，避免游客过于集中在几个热门景点；加强宣传，提高公众环境保护意识；设立禁止拍照警示标志和警戒线。

(2) ①1848 年，马克思为共产主义者同盟撰写的纲领《共产党宣言》发表，标志着马克思主义诞生。《共产党宣言》肯定了资本主义在人类历史上的积极作用，揭示了资本主义的内在矛盾，宣告了工人阶级的历史使命，昭示了未来共产主义社会的原则。

②1917 年十月革命后，李大钊《布尔什维主义的胜利》《庶民的胜利》等文章，率先宣传马克思主义。1919 年五四运动以后，马克思主义迅速在中国传播。1921 年南陈北李组建中国共产党，仿效苏俄革命独立开展革命活动。1927 年国共合作破裂、大革命失败后，毛泽东提出工农武装割据、农村包围城市的思想，马克思主义逐渐中国化，符合中国革命的实际情况。

41. (1) 热带草原带

选 1 月：

景观特点：草木葱绿；

原因：1 月该地受赤道低气压带，盛行上升气流，降水较多。

选 7 月：

景观特点：草木枯黄；

原因：七月该地受东南信风影响，受地形阻挡，降水少。

(2) 影响：促进了手工业的大进步，例如制瓷业、造船业的发展；

促进了国内新的手工业部门和服务业的产生；

引进了一些新的生活和生产的产品，丰富了人们的生活。(6 分)

(3) 答案示例：

“通”

商业贸易是文化传播和交流的重要途径。波斯和叙利亚商人在商贸过程中促进了青花瓷的发展。文化具有多样性，中华文化的发展促进了世界文化的繁荣。元青花的发展为彩绘瓷的发展奠定了主要艺术底蕴。文化传播和交流促进文化的发展，文化创新要坚持面向世界，博采众长并且要以我为主，为我所用。元青花在发展过程中，兼容并蓄，吸收了伊斯兰式的风格，伊斯兰文化影响了我国青花瓷的艺术风格，成熟的青花瓷风格又成为叙利亚和波斯陶工模仿的对象。不同民族文化之间要交流、借鉴与融合，充分吸收其他民族的优秀文化和有益成果。(8 分)